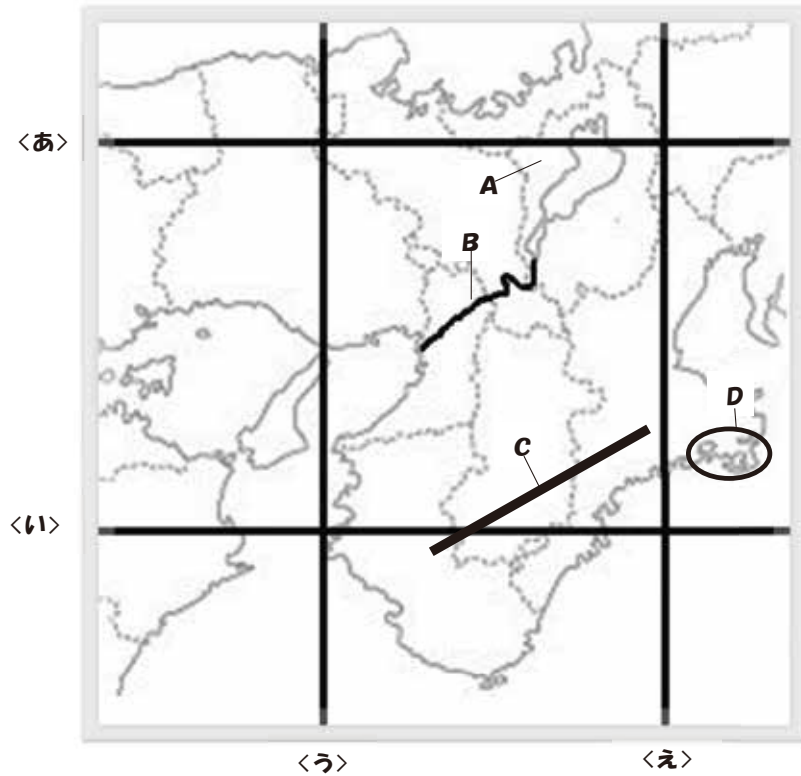


I. 下の近畿地方の地図を見て、あとの間に答えなさい。

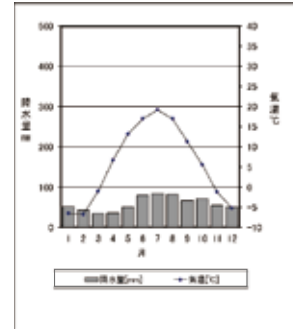


- 問1 地図中**A**の都道府県名および県庁所在地名を答えなさい。
- 問2 地図中**B**の河川名を答えなさい。
- 問3 地図中**C**の山地名を答えなさい。
- 問4 地図中**D**の地域にみられる、複雑に海岸線が入り組んだ地形を何というか答えなさい。
- 問5 日本の標準時子午線となっている、東経135度の経線を地図中<あ>～<え>より1つ選び、記号で答えなさい。

問6 下の各都市の雨温図のうち、気候の特色が最も大阪に近いものを次のア～オより1つ選び、記号で答えなさい。 ※以下の数値は、1981～2010年の30年間の平年値。気象庁のデータを基に作成。

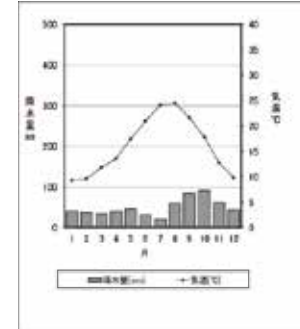
ア. モスクワ (ロシア)

年平均気温 5.8℃、年降水量 706.5mm



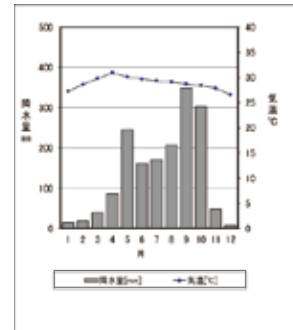
イ. バルセロナ (スペイン)

年平均気温 16.1℃、年降水量 589.7mm




ウ. バンコク (タイ)

年平均気温 28.9℃、年降水量 1653.1mm



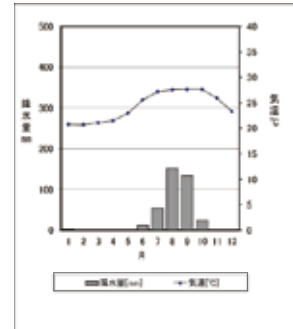
エ. シャンハイ (中国)

年平均気温 17.1℃、年降水量 1157mm



オ. ダカル (セネガル)

年平均気温 24.3℃、年降水量 379.8mm



問7 近畿地方の産業について述べた文のうち、誤っているものを次のア～オより1つ選び、記号で答えなさい。

- ア. 地図中Cの山地では吉野すぎや尾鷲^{おき}ひのきなどの生産がさかんであったが、林業に従事する人が減少し、山林の保全が課題となっている。
- イ. 暖流と寒流のぶつかる和歌山県沖は多くの魚が集まる世界有数の漁場となっており、漁業がさかんである。
- ウ. 大阪湾周辺の地域には阪神工業地帯が形成され、戦前は繊維などの軽工業、戦後は鉄鋼や石油化学などの重化学工業で発達した。
- エ. 京都の西陣織や清水焼などの織物や陶磁器、堺の刃物生産をはじめ近畿地方には多くの伝統工芸品があるが、後継者の育成が課題となっている。
- オ. 大都市郊外では近郊農業がさかんに行われており、中には京野菜のように高い価格で取引されるものもある。

問8 数多くの歴史的建造物を残す京都市や奈良市、熊野古道がある和歌山県などでは、景観や自然環境を保全する取り組みが行われている。その取り組みについて述べた文として適切ではないものを次のア～オより1つ選び、記号で答えなさい。

- ア. 町家とよばれる伝統的住居を改装し、飲食店や宿泊施設として活用する。
- イ. 電線や電柱を地中化する。
- ウ. 建物の高さや店の看板の色やデザインに基準を設ける。
- エ. 地元の住民や企業が荒れた山道を整備し、植生を回復する。
- オ. 外国人観光客が民間のマンションに宿泊ができるようにする。

問9 大阪府や大阪市をはじめ各種経済団体などが主体となり、2025年の開催を目指して誘致活動を行っている国際的イベントを次のア～オより1つ選び、記号で答えなさい。

- ア. 主要国首脳会議（サミット）
- イ. サッカーワールドカップ
- ウ. 万国博覧会
- エ. 夏季オリンピック
- オ. 冬季オリンピック

問10 都市から離れた山間部や臨海部の多くの地域では、若い世代が都市部に移り住み高齢化が進むとともに人口が減少している。このような現象を何とよいか答えなさい。

問11 1995年に兵庫県南部を震源として発生した地震によって、大きな被害をもたらした災害名を答えなさい。

II. 地域との関わりの歴史についてまとめた表を見て、あとの間に答えなさい。

日本			世界	
時代	年代	事項	年代	事項
縄文		①温暖化により海面が上昇し、日本列島が形成され、縄文文化が成立する。		
弥生		大陸から②稲作や金属器がもたらされる。 各地にクニが成立し、③有力者が中国に使者を送る。	紀元前1世紀頃	ヨーロッパで(④)が地中海世界一帯を統一する。
古墳		⑤ヤマト政権(王権)は、渡来人が伝えた漢字や記録、財政の技術を取り入れる。		
飛鳥	607年 630年 663年	聖徳太子(厩戸皇子)が、(⑥)を遣隋使として、派遣する。 ⑦最初の遣唐使が派遣され、その後日本に様々な文物が伝えられる。 白村江の戦いで唐と(⑧)の連合軍に敗れる。		
奈良	752年	⑨東大寺大仏が完成し、式典にインドや唐の僧が参列する。		
平安	894年 939年 12世紀後半	遣唐使が停止され、⑩国風文化が栄える。 (⑪)が瀬戸内海地方の海賊を率いて反乱を起こす。 平清盛が瀬戸内海航路や兵庫の港を整備し、(⑫)との貿易を行う。	11世紀末～	⑬十字軍の遠征がはじまり、ヨーロッパ諸国がイスラーム文化と接触する。
鎌倉			13世紀末	フビライに仕えた(⑭)が「世界の記述」(『東方見聞録』)において、日本を「黄金の国ジパング」と紹介する。

室町	15世紀頃～ 1543年 1549年	室町幕府が⑮明や朝鮮との貿易を行う。 (⑯) に漂着したポルトガル人が鉄砲を伝える。 ⑰イエズス会宣教師フランシスコ＝ザビエルがキリスト教を伝える。	15世紀後半	ヨーロッパで⑱大航海時代が始まる。
江戸	1641年 17世紀中頃 1853年	⑲幕府の鎖国政策が確立し、海外との交流が制限される。 西廻り航路・東廻り航路が開かれ、⑳大阪(坂)が商業の中心となる。 ㉑ペリー率いる4隻の軍艦が浦賀に来航する。	18世紀中頃～	イギリスがインドを植民地化し、清との間で㉒三角貿易を行う。
明治	19世紀後半 1894年 1904年	㉓欧米の文化が流入し、生活の西洋化が進む。 ㉔日清戦争が始まる。 ㉕日露戦争が始まる。		
大正			1914年	㉖第一次世界大戦が始まる。
昭和	1951年	アメリカをはじめ48か国と(㉗)を結び、日本が独立国として主権を回復する。	1945年	第二次世界大戦の経験をもまえ、国際平和維持機関として(㉘)が成立する。

- 問1 下線部①について述べた文として正しいものを、次のア～オより1つ選び、記号で答えなさい。
- ア. イノシシやシカなどの中小動物にかわり、ナウマンゾウなどの大型動物があらわれた。
イ. 人々は堅穴住居に居住したが、有力者は防衛施設を備えた屋敷に住んだ。
ウ. 縄文土器に加えて、大陸からもたらされた須恵器が作られた。
エ. 集落近くにおかれた貝塚からは貝殻のほか、動物の骨や土器なども発見されている。
オ. 豊かな恵みを願い、女性をかたどった埴輪が作られた。
- 問2 下線部②の結果、貧富や身分の差が発生し、鉄製の武器による戦いもはじまったと考えられる。このことを示す深い濠を備えた佐賀県の集落遺跡の名称を答えなさい。

- 問3 下線部③について、次のX・Y・Zの内容と、それらが記された中国の歴史書名の組み合わせとして正しいものを、あとのア～オより1つ選び、記号で答えなさい。
- X: 倭の奴国王が中国に使者を送り、皇帝から金印を授かった。
Y: 倭(日本)には、100余りの小国があった。
Z: 邪馬台国の卑弥呼が中国に使者を送り、皇帝から金印や銅鏡を授かった。
- ア. X:「魏志」倭人伝 Y:『漢書』 Z:『後漢書』
イ. X:「魏志」倭人伝 Y:『後漢書』 Z:『漢書』
ウ. X:『後漢書』 Y:『漢書』 Z:「魏志」倭人伝
エ. X:『後漢書』 Y:「魏志」倭人伝 Z:『漢書』
オ. X:『漢書』 Y:『後漢書』 Z:「魏志」倭人伝
- 問4 (④) に当てはまる国名を答えなさい。
- 問5 下線部⑤について、ヤマト政権(王権)の有力者のものと考えられる古墳のうち、大阪府堺市にある全長約486mの日本最大の古墳の名称を答えなさい。
- 問6 (⑥) に当てはまる人物名を答えなさい。
- 問7 下線部⑦について述べた文のうち正しいものを次のア～オより1つ選び、記号で答えなさい。
- ア. 唐の都、長安にならって天智天皇が平城京を造った。
イ. 唐にならって、稲で納める租、主に地方の特産物を納める調、主に布で納める庸などの税制が定められた。
ウ. 平等院には西アジアやインドからもたらされた聖武天皇の遺品がおさめられている。
エ. 唐から大量の寛永通宝がもたらされ、日本国内で流通した。
オ. 日本の高僧、鑑真は遣唐使とともに留学生として唐にわたり、帰国後寺院や僧の制度を整えた。
- 問8 (⑧) に当てはまる国名を答えなさい。
- 問9 下線部⑨と同じ頃に起こった出来事を次のア～オより1つ選び、記号で答えなさい。
- ア. 浄土教の教えが全国に広まる。
イ. 唐から帰国した空海が密教を伝える。
ウ. 親鸞や日蓮が民衆を対象とした新しい仏教を広める。
エ. 法隆寺や四天王寺が建立される。
オ. 行基が橋やため池を造りながら民衆に仏教を広める。
- 問10 下線部⑩について、『源氏物語』を書いた人物名を答えなさい。
- 問11 (⑪) に当てはまる人物名を答えなさい。
- 問12 (⑫) に当てはまる中国の王朝名を答えなさい。
- 問13 下線部⑬について、十字軍がイスラム教徒からの奪回を目指した聖地を答えなさい。
- 問14 (⑭) に当てはまる人物名を答えなさい。

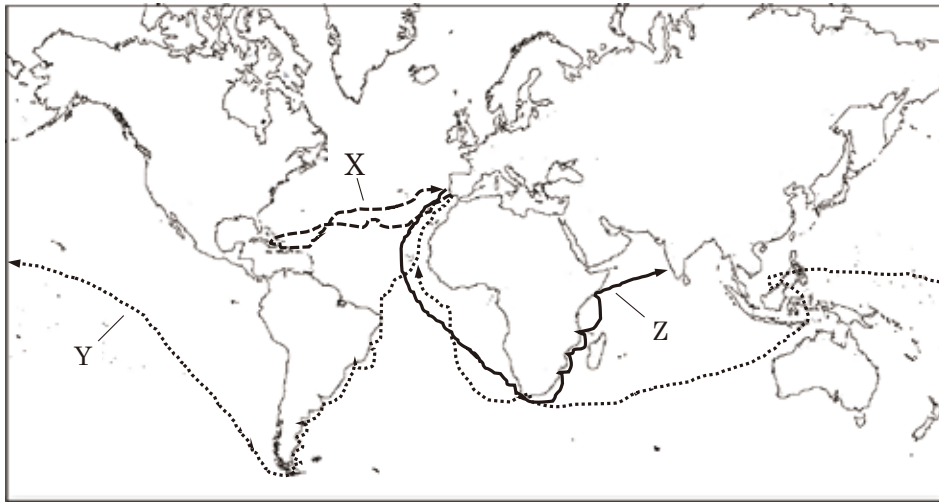
問 15 下線部⑮について述べた文として正しいものを、次のア～オより1つ選び、記号で答えなさい。

- ア. 明・朝鮮は幕府に対して、元寇とよばれる海賊の取り締まりを求めた。
- イ. 明・朝鮮へ入港する際には、朱印状とよばれる渡航証明書が必要であった。
- ウ. 明・朝鮮との貿易は、足利義満の時代に始められた。
- エ. 明との貿易は、室町幕府滅亡後、松前氏に引き継がれた。
- オ. 朝鮮からは大量の銅銭が日本にもたらされた。

問 16 (⑯) に当てはまる地名を答えなさい。

問 17 下線部⑰の成立の一因として、ヨーロッパで宗教改革が起こったことがあげられる。ローマ教皇やカトリック教会を批判し、ドイツで宗教改革の動きをおこした人物名を答えなさい。

問 18 下線部⑱について、下の世界地図は大航海時代にヨーロッパ人が開いた新航路を表したものである。X～Zの航路と関係する人物の組み合わせとして正しいものを、あとのア～オより1つ選び、記号で答えなさい。



- | | | |
|----------------|-------------|-------------|
| ア. X: コロンブス | Y: バスコ＝ダ＝ガマ | Z: マゼラン |
| イ. X: コロンブス | Y: マゼラン | Z: バスコ＝ダ＝ガマ |
| ウ. X: マゼラン | Y: バスコ＝ダ＝ガマ | Z: コロンブス |
| エ. X: マゼラン | Y: コロンブス | Z: バスコ＝ダ＝ガマ |
| オ. X: バスコ＝ダ＝ガマ | Y: マゼラン | Z: コロンブス |

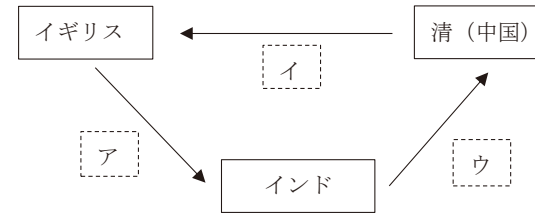
問 19 下線部⑲について、次のⅠ～Ⅲの出来事を時代の古い順に並べたものを、あとのア～オより1つ選び、記号で答えなさい。

- Ⅰ 島原・天草一揆が起きる。
 - Ⅱ 日本人の海外渡航と帰国が禁止される。
 - Ⅲ オランダ商館を長崎の出島に移す。
- ア. Ⅰ→Ⅱ→Ⅲ イ. Ⅰ→Ⅲ→Ⅱ ウ. Ⅱ→Ⅲ→Ⅰ
 エ. Ⅱ→Ⅰ→Ⅲ オ. Ⅲ→Ⅰ→Ⅱ

問 20 下線部⑳について、このことから大阪（坂）は何と呼ばれたか、答えなさい。

問 21 下線部㉑について、この翌年下田・函（箱）館の開港などを認めてアメリカと結んだ条約を何というか答えなさい。

問 22 下線部㉒について、下の図は三角貿易での輸出入品の流れについて示したものである。後に、アヘン戦争の引き金となるアヘンはどこに入るか。ア～ウより1つ選び、記号で答えなさい。



問 23 下線部㉓について述べた文のうち文明開化とは関係のないものを、次のア～オより1つ選び、記号で答えなさい。

- ア. 東京でラジオ放送が始まる。
- イ. 太陽暦を採用する。
- ウ. 郵便制度が始まる。
- エ. 新橋・横浜間に鉄道が開通する。
- オ. 牛鍋を食べる習慣が広まる。

問 24 下線部㉔・㉕について、それぞれの講和条約の組み合わせとして正しいものを、次のア～オより1つ選び、記号で答えなさい。

- | | |
|-------------------|----------------|
| ア. 日清戦争 — 下関条約 | 日露戦争 — ポーツマス条約 |
| イ. 日清戦争 — 下関条約 | 日露戦争 — ベルサイユ条約 |
| ウ. 日清戦争 — ポーツマス条約 | 日露戦争 — ベルサイユ条約 |
| エ. 日清戦争 — ポーツマス条約 | 日露戦争 — 下関条約 |
| オ. 日清戦争 — ベルサイユ条約 | 日露戦争 — 下関条約 |

問 25 下線部㉔について述べた文として誤っているものを、次のア～オより 1 つ選び、記号で答えなさい。

- ア. 戦前、ヨーロッパで形成されていた三国同盟とはドイツ・オーストリア・イタリアの同盟である。
- イ. ドイツがポーランドに侵攻したことをきっかけに開戦した。
- ウ. 飛行機・潜水艦・毒ガスなどの新兵器が使われた。
- エ. 大戦中にロシア革命が起こった。
- オ. 日本は日英同盟を結んでいたため、連合国側に立って参戦した。

問 26 (㉕) に当てはまる条約名を答えなさい。

問 27 (㉖) に当てはまる機関名を答えなさい。

Ⅲ. 次の文章を読んで、あとの間に答えなさい。

近年、①ふるさと納税やゆるキャラなど、地方公共団体の広報活動やまちおこしに関連するキーワードをよくニュースでも耳にする。国政よりも私たちの言葉や行動が反映されやすい地方行政だが、以前は国から地方に多くの業務を任せていたため、問題が多々あった。しかし、②1999年に成立した法令により、地方公共団体の権限が強められ、国と地方公共団体の役割が明確に分かれた。

現在、地方公共団体には③首長と地方議会がおかれ、国政には無い地方政治の特色がみられる。さらに地方政治においては直接民主制を取り入れた④直接請求権が広く認められている。

地方公共団体の事業は税金・補助金を基にして行われており、この経済活動を⑤地方財政というが、地方税の収入は落ち込むことが多く、どうしても地方債に頼らざるを得ない状況になっている。地方債の発行が増えると、予算を借金返済に充てるケースが増え、地方公共団体が住民に本当にすべきサービスができなくなる可能性がある。国は対応策として⑥2007年に法令を制定し、地方公共団体の財政状況が悪化し、基準値を下回った場合、改善をすすめ、さらに悪化した場合は監督下に入れ、立て直しを図るようにした。

現在、⑦地方自治は「地方公共団体が住民の声を生かす」だけでなく、⑧住民自身が自発的に地域のために活動する動きが広がりつつある。地方自治においては様々な問題を抱えながらもそれを解決し、より良い社会となるように一人一人が責任や義務を果たしていくことが求められる。

問 1 下線部①について述べた文として誤っているものを、次のア～オより 1 つ選び、記号で答えなさい。

- ア. 個人が地方公共団体に納付した場合、その一定額分を自分のまちに納める住民税から差し引く制度である。
- イ. 寄附金の使い道については、ふるさと納税を行った本人が用途を選択できるようになっている自治体もある。
- ウ. 納税希望者は出身地や現在居住している地方公共団体のみにしか税の納付はできない。
- エ. 確定申告を行わなくてもふるさと納税の寄附金控除を受けられる仕組み「ふるさと納税ワンストップ特例制度」が創設された。
- オ. ふるさと納税は、その活用により、地域社会の活性化や人口減少対策などを目指して導入された制度である。

問 2 下線部②について、この法令の名称を答えなさい。

問3 下線部③の説明について、最も適切なものを次のア～オより1つ選び、記号で答えなさい。

- ア. 首長と地方議会の主張が対立した場合、首長は議会を解散することができない。
- イ. 地方議会は首長の不信任決議案を提出することができるが、可決されても首長は辞職や議会の解散などをしなくても良い。
- ウ. 都道府県知事・市町村長の被選挙権は全て18歳以上である。
- エ. 都道府県知事・市町村長の任期は4年である。
- オ. 都道府県知事は衆議院議員総選挙比例代表ブロックから地方の代表として出馬することができる。

問4 下線部④について、以下の間に答えなさい。

- (1) 地方公共団体の区域内において適用され、国の法令に違反しない範囲で定めることができる法令の総称を答えなさい。
- (2) 有権者75000人の地方公共団体で監査請求を行う場合、何人以上の署名が必要になるか答えなさい。
- (3) 議会の解散を請求する場合、請求先はどこになるか答えなさい。
- (4) 住民が首長や地方議員に対して解職請求することを何というか答えなさい。
- (5) 住民全体の意思をくみ取り、地方政治に反映させる動きを何というか答えなさい。

問5 下線部⑤について、以下の間に答えなさい。

- (1) 地方税に該当するものを次のア～オより1つ選び、記号で答えなさい。
ア. 相続税 イ. 固定資産税 ウ. 揮発油税 エ. 法人税 オ. 所得税
- (2) 地方公共団体の財源のうち、地域間の税収入の不公平感をなくすために国から支給される使い道が自由なお金のことを何というか答えなさい。
- (3) 公共事業や社会保障など国が特定の仕事のために地方公共団体に交付するお金のことを何というか答えなさい。
- (4) 効率的な行政を目指すために行政を監視する役目としてオンブズマン制度がある。オンブズマン制度の説明として誤っているものを次のア～オより1つ選び、記号で答えなさい。
ア. 国政においてはオンブズマンに関する法律がないため、地方公共団体の公的オンブズマンが代理人として調査・監視する。
イ. 「オンブズマン」はスウェーデン語の「代理人」を語源としている。
ウ. 日本で最初に公的なオンブズマン制度を導入したのは神奈川県川崎市である。
エ. オンブズマンは行政機関に対する調査権を持ち、任命権者から独立的または中立的に職務を行うものとされる。
オ. 近年は、オンブズマンを「オンブズパーソン」と呼ぶこともある。

問6 下線部⑥について、この法令の名称を答えなさい。

問7 下線部⑦について、イギリスの政治学者ブライスは「住民自らが政治に参加することによって、住民の意思を地方自治に反映させる」観点から『()の学校』と述べた。空欄に当てはまる語を答えなさい。

問8 下線部⑧に関連して、社会福祉・まちづくりなど社会に貢献していく活動を行う営利を目的としない団体のことを何というか、アルファベットで答えなさい。

IV. 次の日本国憲法「第7章 財政」の条文を読んで、あとの問に答えなさい。

第83条 国の財政を処理する権限は、(A)の議決に基づいて、これを行使しなければならない。

第84条 あらたに(B)を課し、又は現行の(B)を変更するには、法律又は法律の定める条件によることを必要とする。

第86条 (C)は毎会計年度の予算を作成し、(A)に提出して、その審議を受け議決を経なければならない。

第88条 すべて皇室財産は、(D)に属する。すべて皇室の費用は、予算に計上して(A)の議決を経なければならない。

問1 (A)～(D)に当てはまる語を次のア～コより1つ選び、記号で答えなさい。

- ア. 国 イ. 税率 ウ. 租税 エ. 内閣 オ. 国会
カ. 地方議会 キ. 裁判所 ク. 天皇 ケ. 国民 コ. 財務省

問2 下線部の期間として正しいものを、次のア～オより1つ選び、記号で答えなさい。

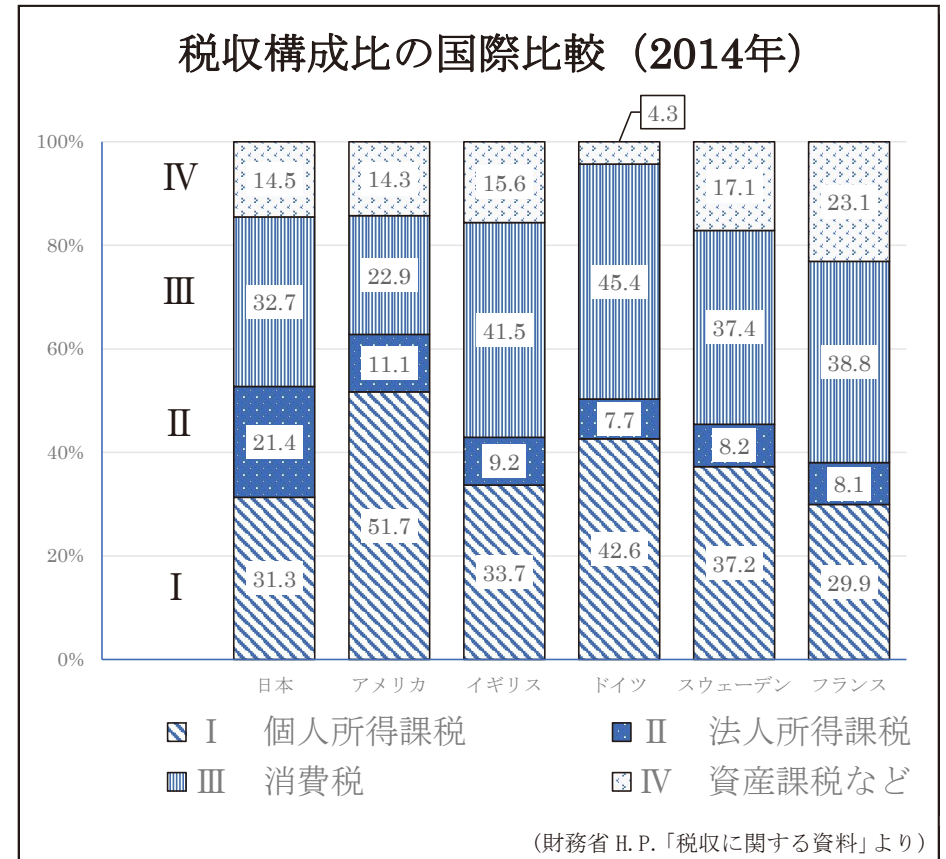
- ア. 7月1日から翌6月30日まで イ. 4月1日から翌3月31日まで
ウ. 1月1日から12月31日まで エ. 9月1日から翌8月31日まで
オ. 10月1日から翌9月30日まで

問3 国の収入支出の決算を毎年検査している機関はどこか答えなさい。

問4 日本国憲法「第7章 財政」に関連して、以下の問に答えなさい。

- (1) 国の収入源の1つである所得税に課せられている「所得が多い人ほど高い税率が適用される」制度の名称を答えなさい。
- (2) 国や地方公共団体は税金だけで必要な財政支出に対応できない時は銀行や個人など民間から資金を借り入れる形で、あるものを発行する。それは何か答えなさい。
- (3) 19世紀から20世紀にかけて、政府の役割として人々の生活を安定させるため、社会保障や教育、雇用の確保が求められるようになった。このような政府を何とよいか答えなさい。

(4) 下のグラフについて述べた文 X・Y・Z について、その正誤の組み合わせとして正しいものを、あとのア～クより1つ選び、記号で答えなさい。



- X: 各国の消費課税を見ると、一番割合が多い国でも 50%を上回っている国はない。
 Y: 法人所得課税の割合において、日本はドイツよりも 2.5 倍以上の割合を示している。
 Z: 各国ともに「個人所得課税」の割合が一番多い。

- ア. X: 正 Y: 正 Z: 正 イ. X: 正 Y: 正 Z: 誤
 ウ. X: 正 Y: 誤 Z: 正 エ. X: 正 Y: 誤 Z: 誤
 オ. X: 誤 Y: 正 Z: 正 カ. X: 誤 Y: 正 Z: 誤
 キ. X: 誤 Y: 誤 Z: 正 ク. X: 誤 Y: 誤 Z: 誤

以上で問題は終わりです。